

نشاط منزلي فردي : الطول

1 لون المطلوب :



لون الأقصر



لون الأطول



2 رتب من الاقصر الي الاطول



4 عد واكتب طول كل مما يلي باستخدام الوحدة المشار اليها



الطول =



الطول =



الطول =

1 اختر العدد الترتيبي للشئ المعط بدائرة كما بالمثال :

1

اختر

الثالث

الرابع

الاول

الثالث

السادس

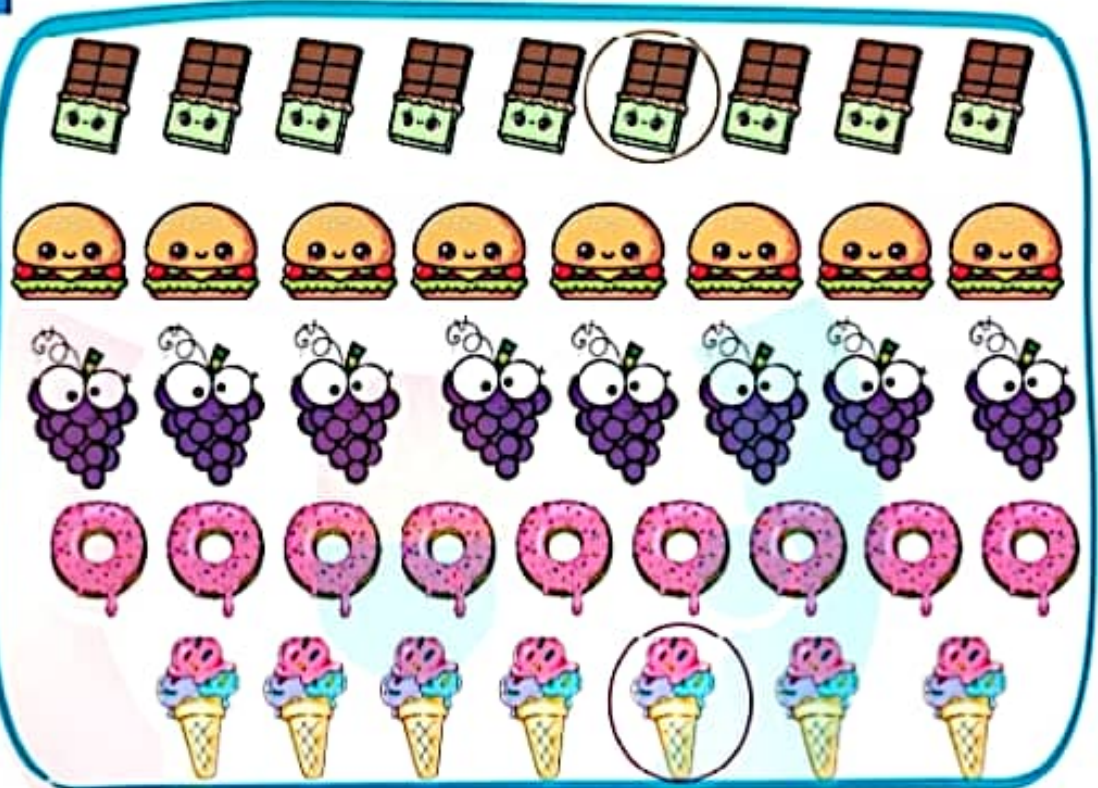
السابع

الاول

التاسع

الثالث

الخامس



2 لاحظ الصور ثم اكمل ابرا العد من اليمين الي اليسار :

2



عدد التفاح في السلة الرابعة = بينما عدد التفاح في السلة الثانية =

عدد التفاح في السلة الثالثة + عدد التفاح في السلة الاولى = + =



نشاط منزلي فردي

الاعداد الترتيبية

1 حوِّط حول الشيء المطلوب ترتيبه من اليمين :

1

☆ حوِّط السيارة العصفورة الثالثة



☆ حوِّط الفراولة الثانية



☆ حوِّط السيارة السادسة



2 ظلِّك الاجابة الصحيحة :

2

.....الثاني,الثالث,الرابع

الأول السابع

4,.....,2,1

12 21 3

.....=10+20

10 30 40

.....=1+6

5 7 16

3 اكتب العدد الترتيبي لأحواض الزهور ثم أكمل :

3



عدد الزهور في الحوض الثالث =

عدد الزهور في الحوض الخامس =

عدد الزهور في الحوض الأول + عدد الزهور في الحوض الثالث = + =

عدد الزهور في الحوض الأول يساوي عدد الزهور في الحوض