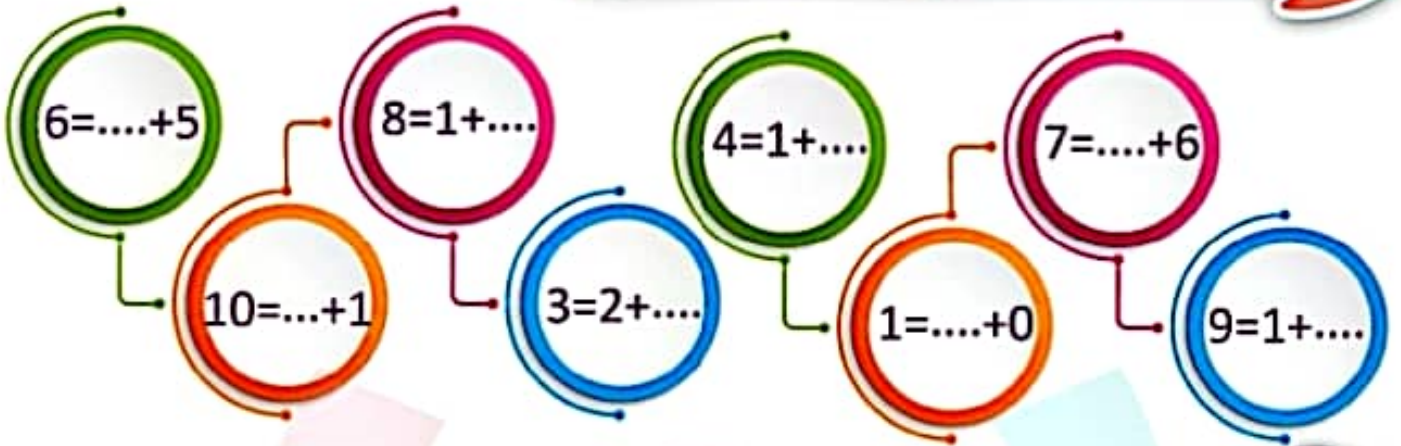
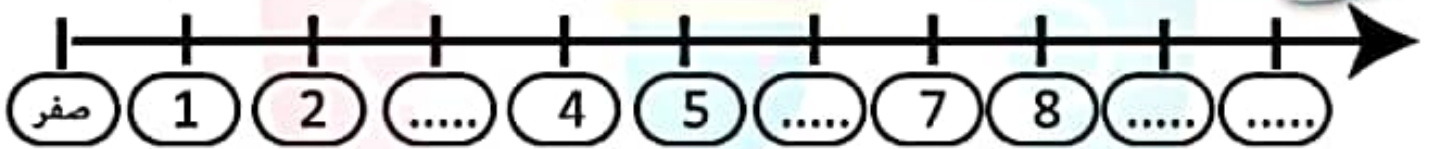


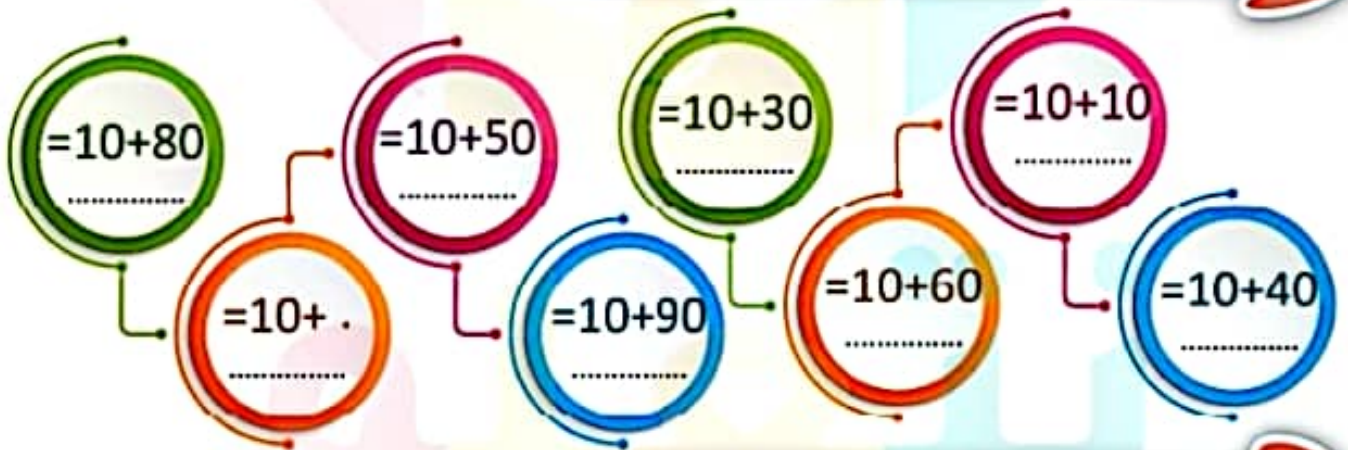
2 اكمل بكتابة العدد الناقص في كل مما يأتي



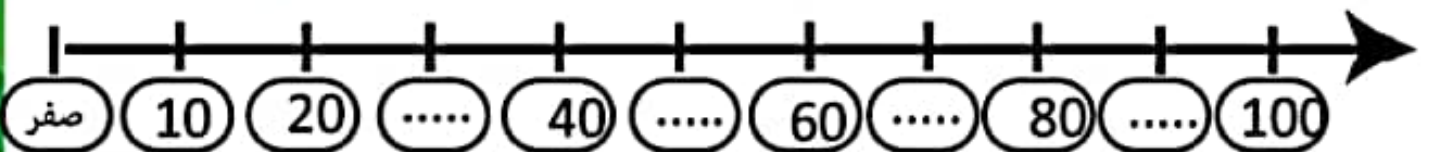
3 اكمل الاعداد الناقصة علي خط الاعداد



4 اكتب ناتج كل مما يأتي :



5 اكمل الاعداد الناقصة علي خط الاعداد:



2
3
5

طول القلم =

أمام
خلف
يسار

الكلب البيت .

تحت
فوق
يمين

العصفور الشجرة.

مازن ياسين

أطول من
أقصر من

مازن ياسين .



تقييم الأداء

1 اكمل بكتابة الكلمة المناسبة (أطول من او أقصر من) في كل مما يأتي



الولد البنت



الكرسي السلم



القلم الكتاب

2 اكمل ما يأتي :

4,.....32,22,12	3=10+20	2=10+50	1=1+8
8,.....7,6,5	7=10+70	6=10+30	5=1+9

3 اكمل باستخدام يمين او يسار او امام او داخل او تحت او خلف او فوق :



الولد الحائط



الولد الكرسي



الولد الكرسي



الولد الكرسي